

持ち帰り禁止

受験番号

--	--	--	--	--	--	--

フリガナ

氏名

フリガナ
氏名

採点欄

--

切り離さないでください

問1

(1)

① _____ ② _____ ③ _____

④ _____ ⑤ _____ ⑥ _____

⑦ _____ ⑧ _____

(2)

① 下層雲： _____ 上層雲： _____

② _____ が卓越

衛星画像に基づく根拠

地上観測に基づく根拠

問2

(1)

① 移動方向： _____ 中心気圧の変化： _____

② 北緯 _____ °

この部分(点線の左側)に書かれた解答は採点しません

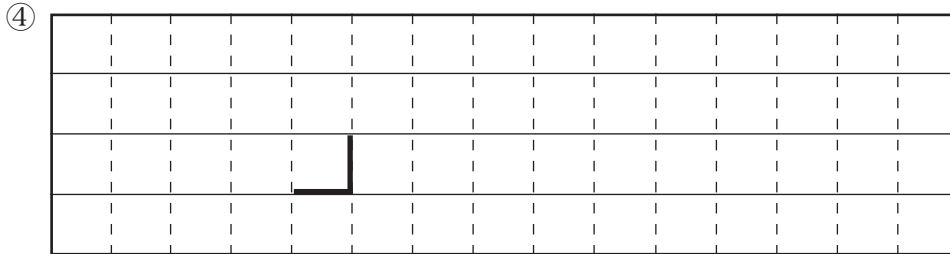
切り離さないでください

切り離さないでください

(1) ③ 中心位置：北緯 _____ ° 東経 _____ °

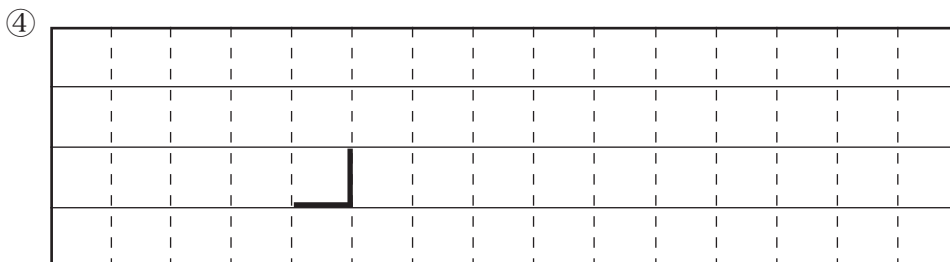
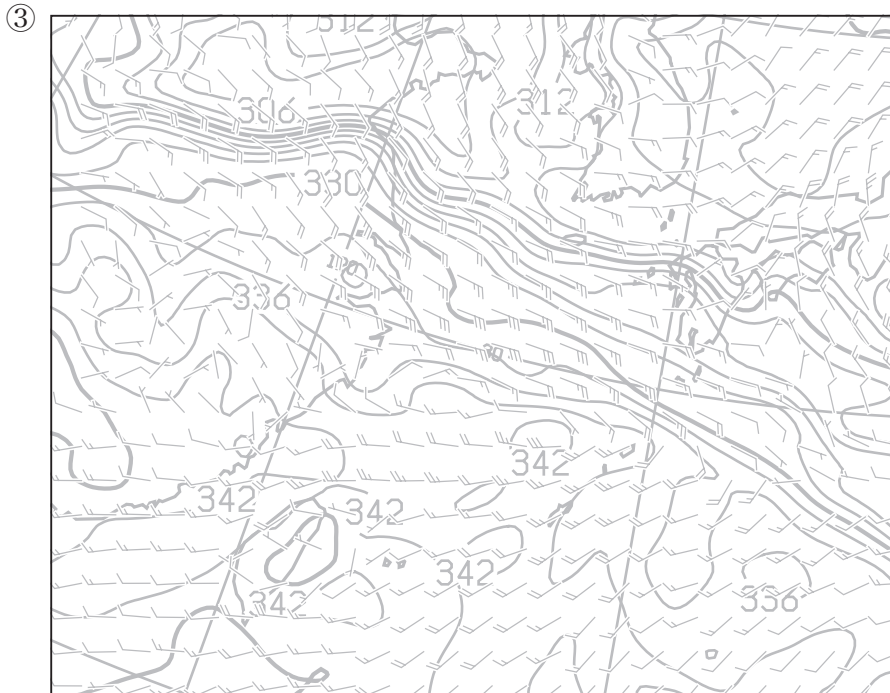
渦度の極大値

36 時間後： _____ 48 時間後： _____



(2) ① 時間帯： _____ 最大値： _____ mm

② _____ m/s



この部分 (点線の左側) に書かれた解答は採点しません

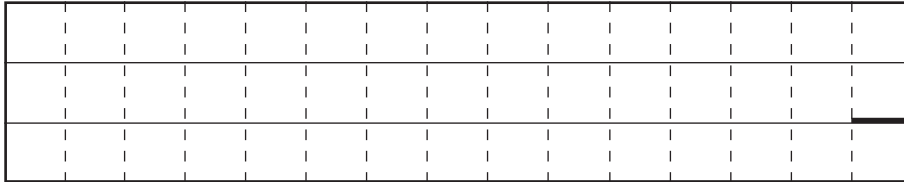
切り離さないでください

問 3

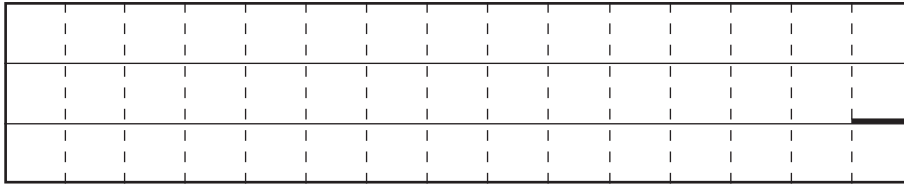
- (1) ① _____ ② _____ ③ _____
 ④ _____ ⑤ _____ ⑥ _____
 ⑦ _____ ⑧ _____ ⑨ _____
 ⑩ _____

(2)

降水域 A

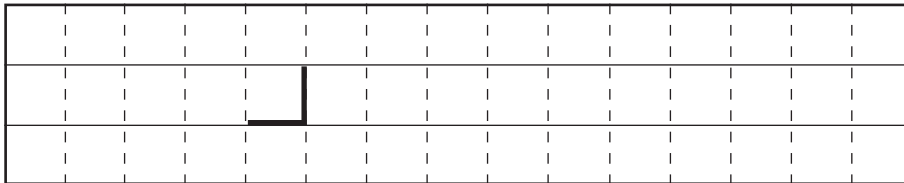


降水域 B




冷気外出流を伴う降水域： _____

(3)



(4)



(5) ① 気温差： _____ °C 気温減率： _____ °C/km

成層状態： _____

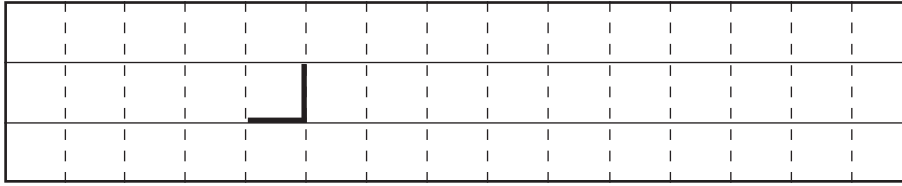
切り離さないでください

この部分 (点線の左側) に書かれた解答は採点しません

切り離さないでください

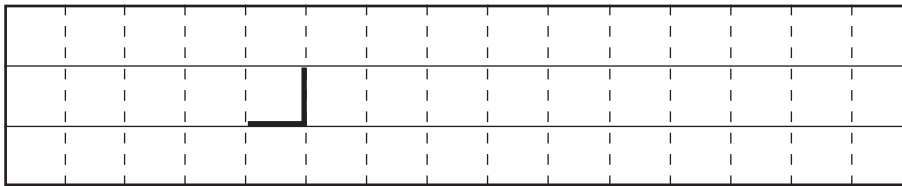
(5) ② 時刻： _____ 時

根拠



問 4

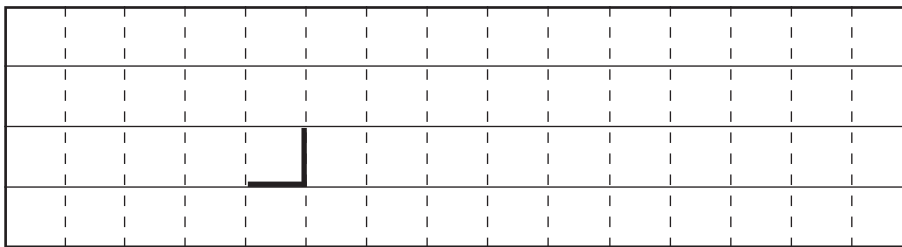
(1)



(2)

① _____

②



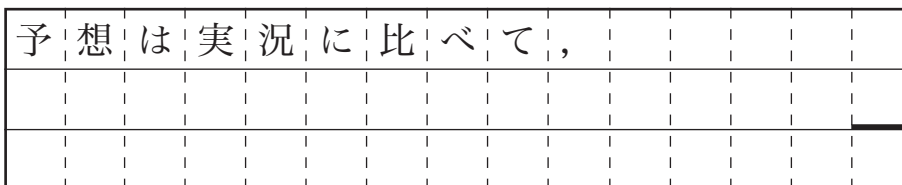
③

時間帯	ア	イ	ウ	エ	オ	カ
最大 3時間 降水量 (mm)						

④ _____

(3)

①



②

a _____ b _____ c _____ d _____

切り離さないでください

この部分 (点線の左側) に書かれた解答は採点しません

切り離さないでください