

持ち帰り禁止

受験番号

--	--	--	--	--	--	--

フリガナ

氏名

--

採点欄

--

切り離さないでください

問 1

(1)

① _____ ② _____ ③ _____

④ _____ ⑤ _____ ⑥ _____

⑦ _____ ⑧ _____

(2)

	現在天気	雲形
輪島		
松江		
鹿児島		

過去天気で雷電を観測している地点名： _____

問 2

(1)

ア： 気圧 _____ hPa 気温 _____ °C

イ： 気圧 _____ hPa 気温 _____ °C

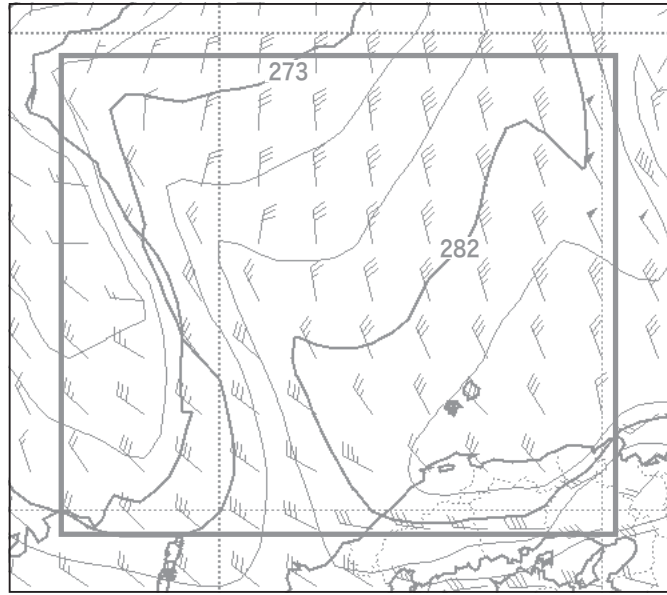
(2)

(3)

切り離さないでください

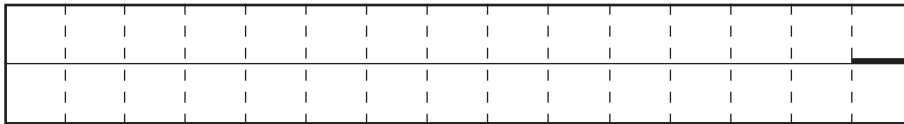
問 3

(1)



(2)

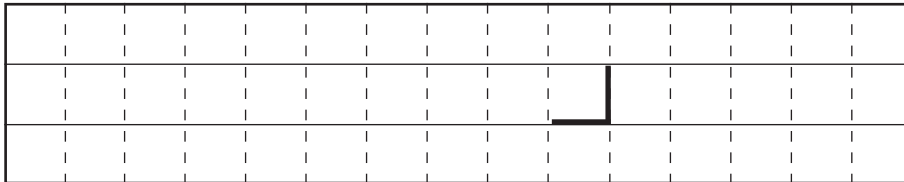
(3)



(4)

山陰： _____ 山陽： _____

(5)

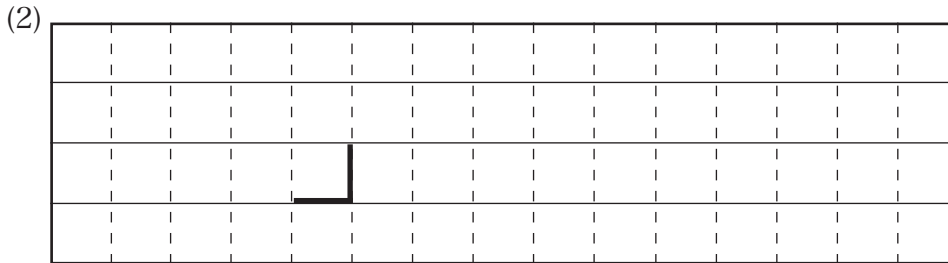
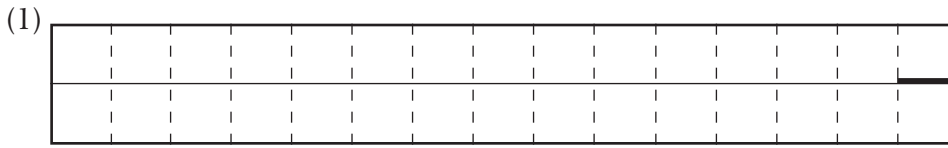


切り離さないでください

この部分(点線の左側)に書かれた解答は採点しません

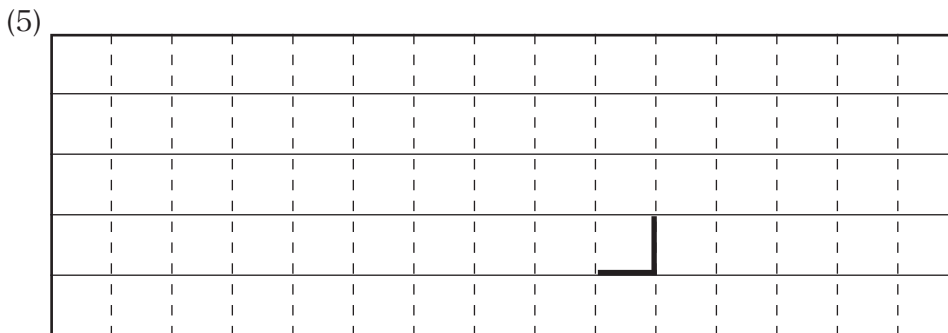
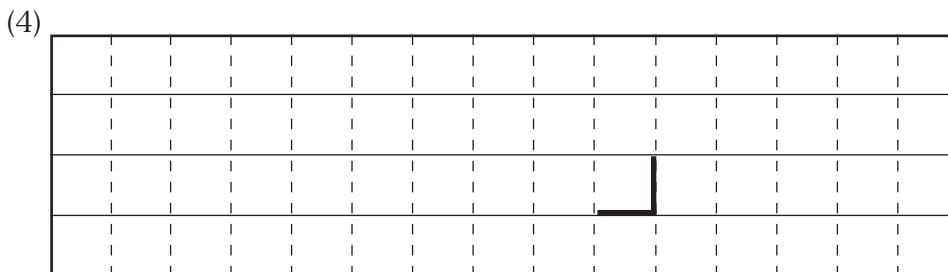
切り離さないでください

問 4



(3)

	東経 130 度 (九州北部)	東経 133 度 (山陰)
700hPa 鉛直流の向き		
700hPa 湿数	°C	°C
850hPa 気温	°C	°C



(6) _____ , _____ , _____

切り離さないでください

この部分 (点線の左側) に書かれた解答は採点しません

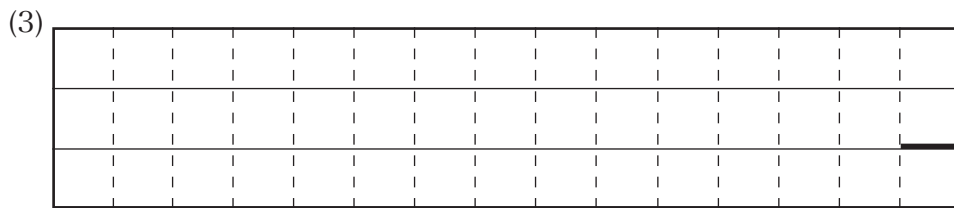
切り離さないでください

問 5

(1)


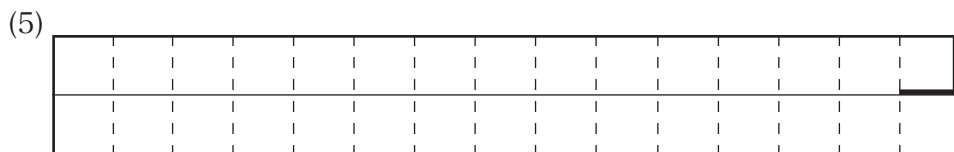
	24 時間降水量	24 時間降雪量	雪 水 比
米 子	mm	cm	
大 山	mm	cm	

(2) 気温減率： _____ °C / 100m 大山の気温： _____ °C



(4) 31 日 18 時 ~ 24 時： _____ 1 日 0 時 ~ 6 時： _____

雪水比の変化： _____



切り離さないでください

この部分 (点線の左側) に書かれた解答は採点しません

切り離さないでください