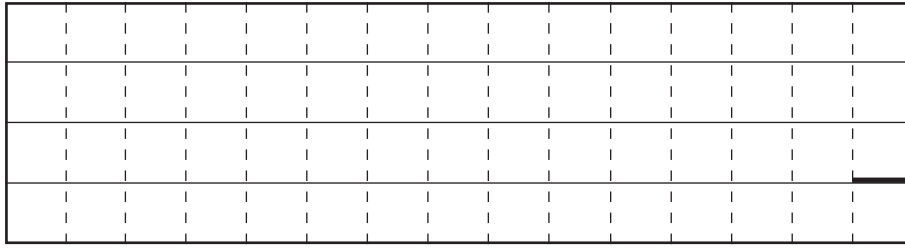


(2)

②



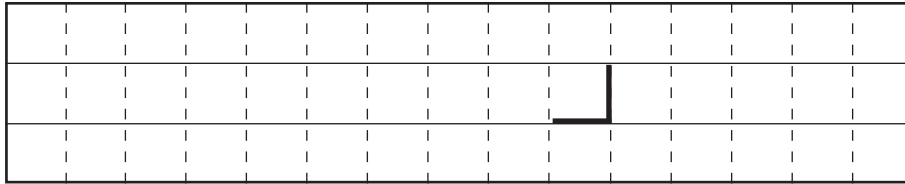
(3)

①

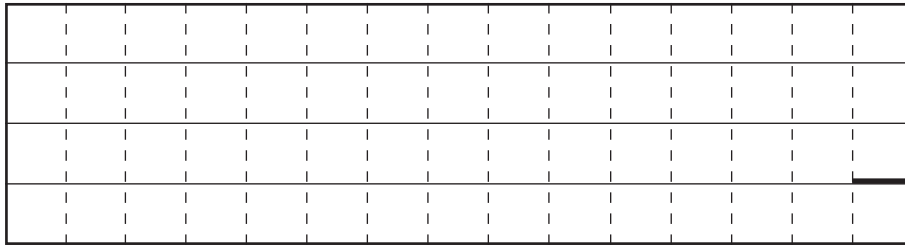
B: _____ K

C: _____ K

②



(4)



問4

(1)

①

北緯 _____ °

根拠: _____

②

切り離さないでください

この部分（点線の左側）に書かれた解答は採点しません

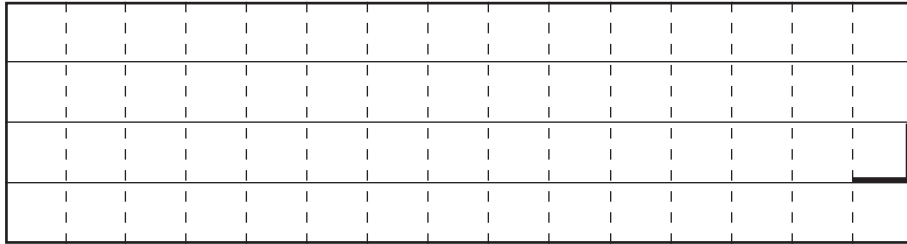
切り離さないでください

(2)

① 相当温位の鉛直分布の特徴： _____

成層状態： _____

②



③

_____ hPa/h

④

_____ m

⑤

_____ m/s

(3)

① _____

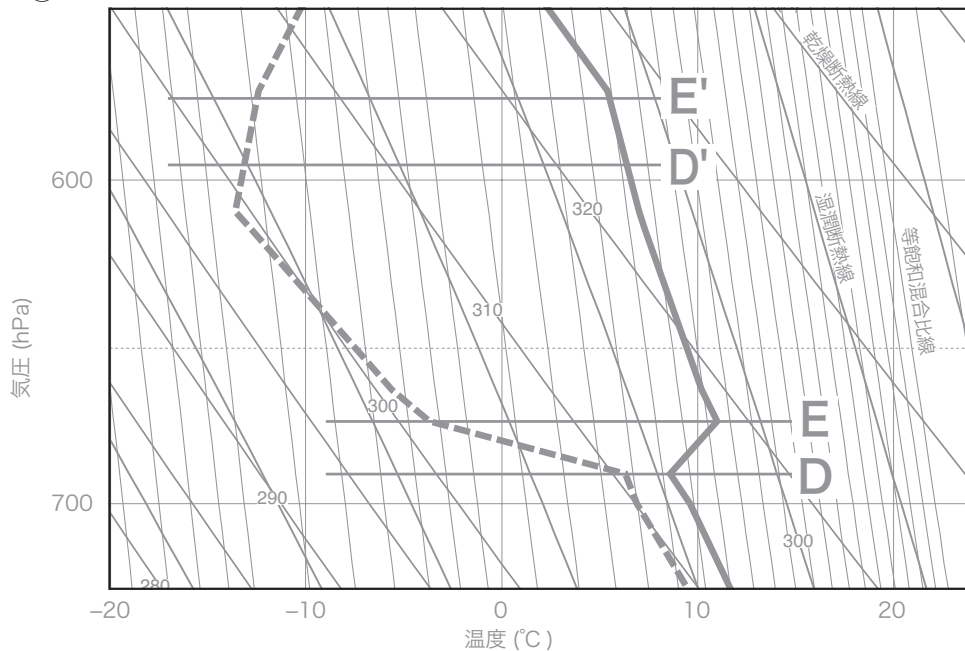
②

D : _____ K

E : _____ K

成層状態： _____

③

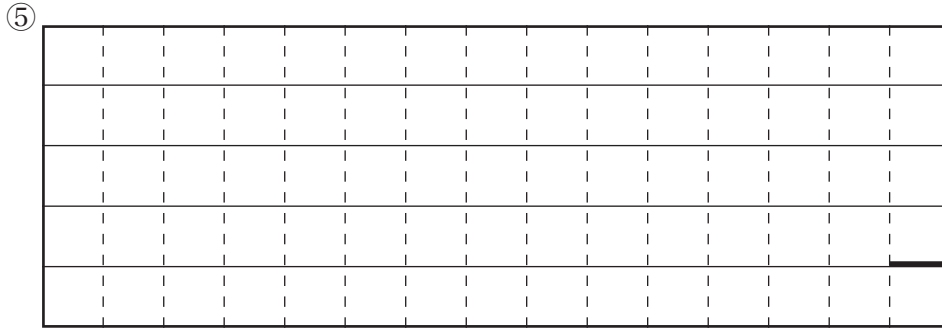
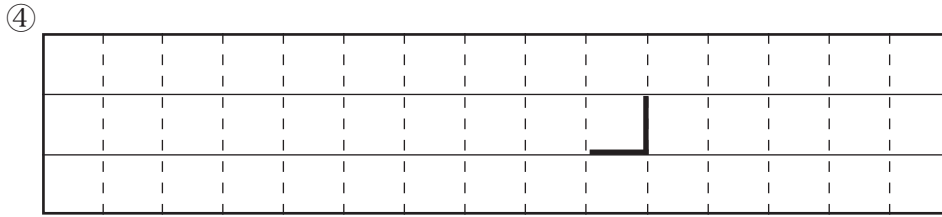


切り離さないでください

この部分(点線の左側)に書かれた解答は採点しません

切り離さないでください

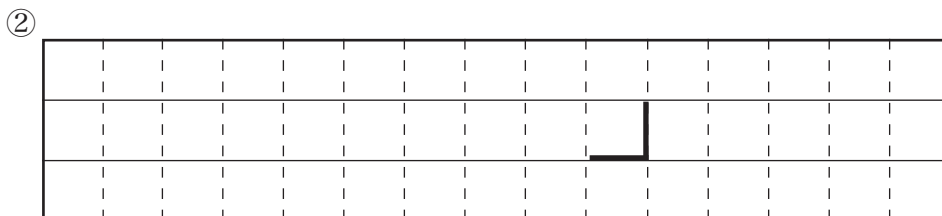
(3)



(4)

① _____ 時 _____ 分 ~ _____ 時 _____ 分

時間帯： _____



問5

(1) _____

(2) ① _____ ② _____ ③ _____ ④ _____

切り離さないでください

この部分（点線の左側）に書かれた解答は採点しません

切り離さないでください